





てんもん
天文 コーナー

山口県立博物館
見学ワークシート
小学校4年生以上 対象




『天体』コーナーに展示されているものの中から答を見つけよう。
問題は8つあります。どこからやってもいいよ。

問題 太陽とそのまわりをまわっている天体を全部ふくめて何と呼んでいるでしょう？





問題 太陽のまわりをまわっている惑星は全部でいくつあるでしょう？



問題 木星には4つの有名な衛星があり、発見した有名な天文学者の名前がついています。この4つの衛星のうち、にあてはまるものは何でしょう。イオ、エウロパ 、ガニメデ

問題 土星のリングは有名ですが、このリングは主に何からできているでしょう？




問題 下松という地名は、『星がにった』という出来事をはじめりとも言われている。

問題 こいぬ座の近くにある星座はつぎのうちどれでしょう？ ボタンをおしてたしかめよう。


はくちょう座 ()
かに座 ()
ペガスス座 ()



問題 月の表面には隕石がぶつかってきたでこぼこの穴がたくさんあります。この穴のことを何というでしょう？



問題 木星の直径は地球の直径の約何倍の大ききさがあるでしょう？



学習コーナー
天文コーナー

解答は「学習コーナー」にあるよ!!
自分で採点してみてね。

8点満点だよ!!



てん
点